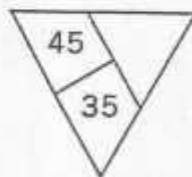

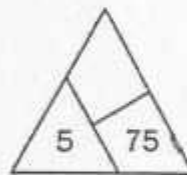
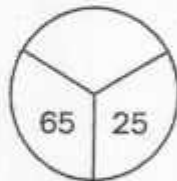
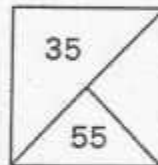


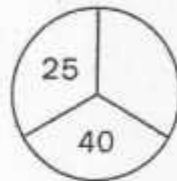
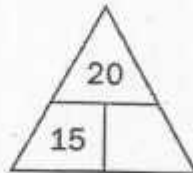


Név: _____

Matematika verseny 2. forduló

2. osztály

1. Legyen az összeg mindenhol 100!



2. Mennyi  értéke, ha azt tudod, hogy:

$$\text{egg} + \text{egg} + 4 = \text{egg} \cdot \text{egg} \cdot \text{egg}$$

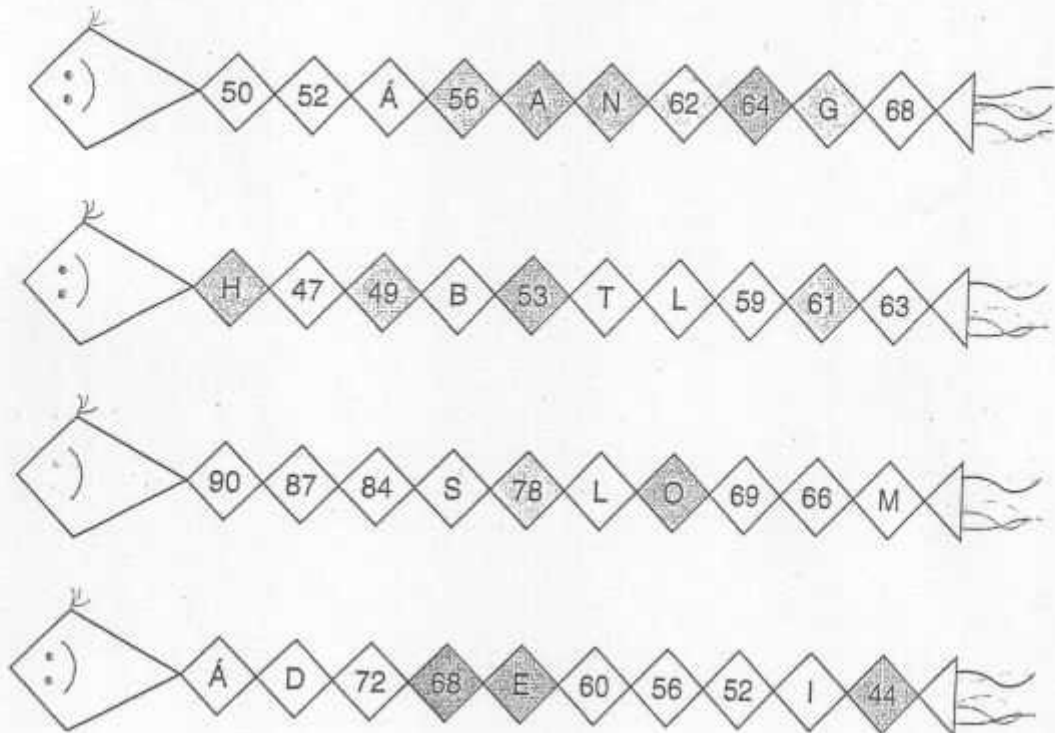
1

2

4

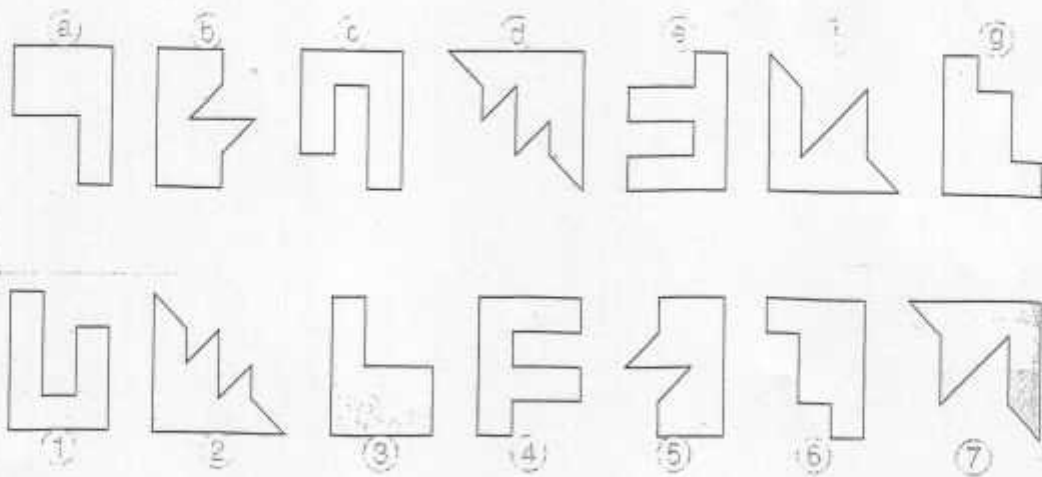
0

3. Írd a számok alá azt a betűt, amely a szám helyén áll a sárkányokban!




45	48	51	54	55	57	58	60	63	64	66	72	75	76	80	81

4. Kösd össze, melyik két darabból tudnál egy négyzetet összerakni!




5. Melyik ábra összesen mennyit ér?


 = $5 \cdot 4$

 = $4 \cdot 4$


 = $4 \cdot 3$

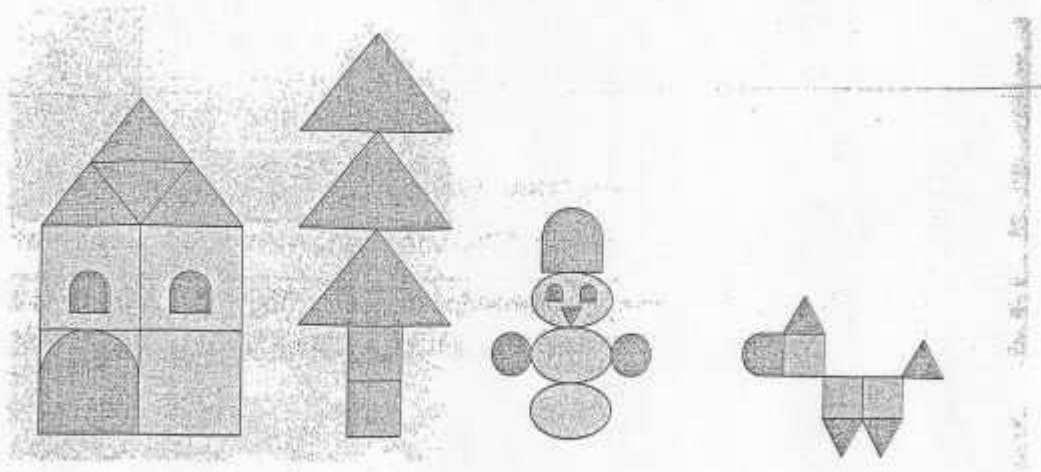
 = $1 \cdot 4$

 = $40 : 4$

 = $32 : 4$

 = $24 : 4$

 = $8 : 4$


















Ház:

Fenyőfa:

Hóember:

Kutya:

6. Figyeld meg a mérlegeket! Írd be a hiányzó mennyiségeket!

			<input type="text"/>
			<input type="text"/>
			<input type="text"/>
			<input type="text"/>
			<input type="text"/>

7. Malacka uzsonnázni hívta a barátait. Amikor az asztalra akarta tenni a madártejét, meglepődve látta, hogy az eltűnt a konyhából. Malackán kívül még négyen voltak a házikóban: Micimackó, Tigris, Fülel és Nyuszi. A kérdésre, hogy ki ette meg a madártejét, így válaszoltak:

Micimackó: Tigris volt.

Tigris: Nyuszi volt.

Fülel: Nem én voltam.

Nyuszi: Tigris nem mond igazat, ha azt állítja, hogy én voltam.

Ki ette meg a madártejét, ha négyőjük közül egyvalaki hazudik, a többiek pedig igazat mondanak?